






STREEKTOERISME

Bestudeer die SAOG-kaart en probeer daarna die meeste lande op die kaart identifiseer om die regte naam by die regte SAOG-land se vlag en kaart te skryf.







leidrade

Instruksies: Die eerste letter van die woord word na die grys blokkie waarin die syfer staan ingevul.



1. Die engelse term vir SAOG is SADC wat vir die volgende staan = Southern African _____ Community.
2. SAOG is 'n streeksvereniging wat uit suidelike, sentrale en oostelike Afrika-lande bestaan. Dit sluit die eilande in die _____ oseaan in.
3. Daar is _____ SAOG lande tans in 2020. Omdat die Comoros eilande onlangs by die lys gevoeg is.
4. Doelwit van die SAOG lande is om ontwikkeling, groei en _____ te verbeter en om vrede en veiligheid tussen lidlande in die streek te bevorder.
5. Streekstoerisme is die toerisme wat plaasvind in 'n gedefinieerde of _____ gebied.



6. Streekstoerismeorganisasie van Suider Afrika = _____ (afrikaanse term vir RETOSA)
7. Die doel van RETOSA is om die streek as 'n enkele, maar ook as 'n kollektiewe bestemming te _____ en te bevorder en die beeld daarvan as 'n voorkeurbestemming uit te bou.
8. RETOSA is gerig op die ontwikkeling en _____ van toerisme in die lidlande van die SAOG.

Voordele van streekstoerisme vir SA en SAOG-Lande:

9. Toerisme is _____-intensief
10. Mense sal in diens geneem word vir die _____ en instandhouding van die bedryf.
11. Hierdeur sal werkers meer _____ verdien.



Skryf nog twee voordele van streekstoerisme neer:
