



**PREFEITURA MUNICIPAL DE PONTE NOVA  
SECRETARIA DE EDUCAÇÃO  
ESTADO DE MINAS GERAIS**

**PORTUGUÊS E MATEMÁTICA – 2º PERÍODO  
TEMA: DIA DA BANDEIRA**

1. ESCREVA O SEU PRIMEIRO NOME NO ESPAÇO ABAIXO:

ADULTO, LEIA PARA A CRIANÇA:

**CURIOSIDADES:**

**O BRASIL E OS BRASILEIROS  
FICARAM LIVRES DOS PODERES DO IMPERADOR DOM PEDRO II  
NO DIA 15 DE NOVEMBRO DE 1889,  
COM A PROCLAMAÇÃO DA REPÚBLICA ANUNCIADA PELO  
MARECHAL DEODORO DA FONSECA.**



**A BANDEIRA DO BRASIL FOI CRIADA LOGO DEPOIS, NO DIA 19 DE  
NOVEMBRO DO MESMO ANO.**

1. CIRCULE NO CAÇA-PALAVRAS, AS LETRAS QUE COMPÕEM A PALAVRA BRASIL:

**BRASIL**

A F R E B R A S I L  
F L T C A E Y N B B  
A I L M P A T R I A  
A E R E A D L I B  
B R A S I L M V D A

2. DESENHE A BANDEIRA DO BRASIL, RESPEITANDO SUAS FORMAS:



RETÂNGULO



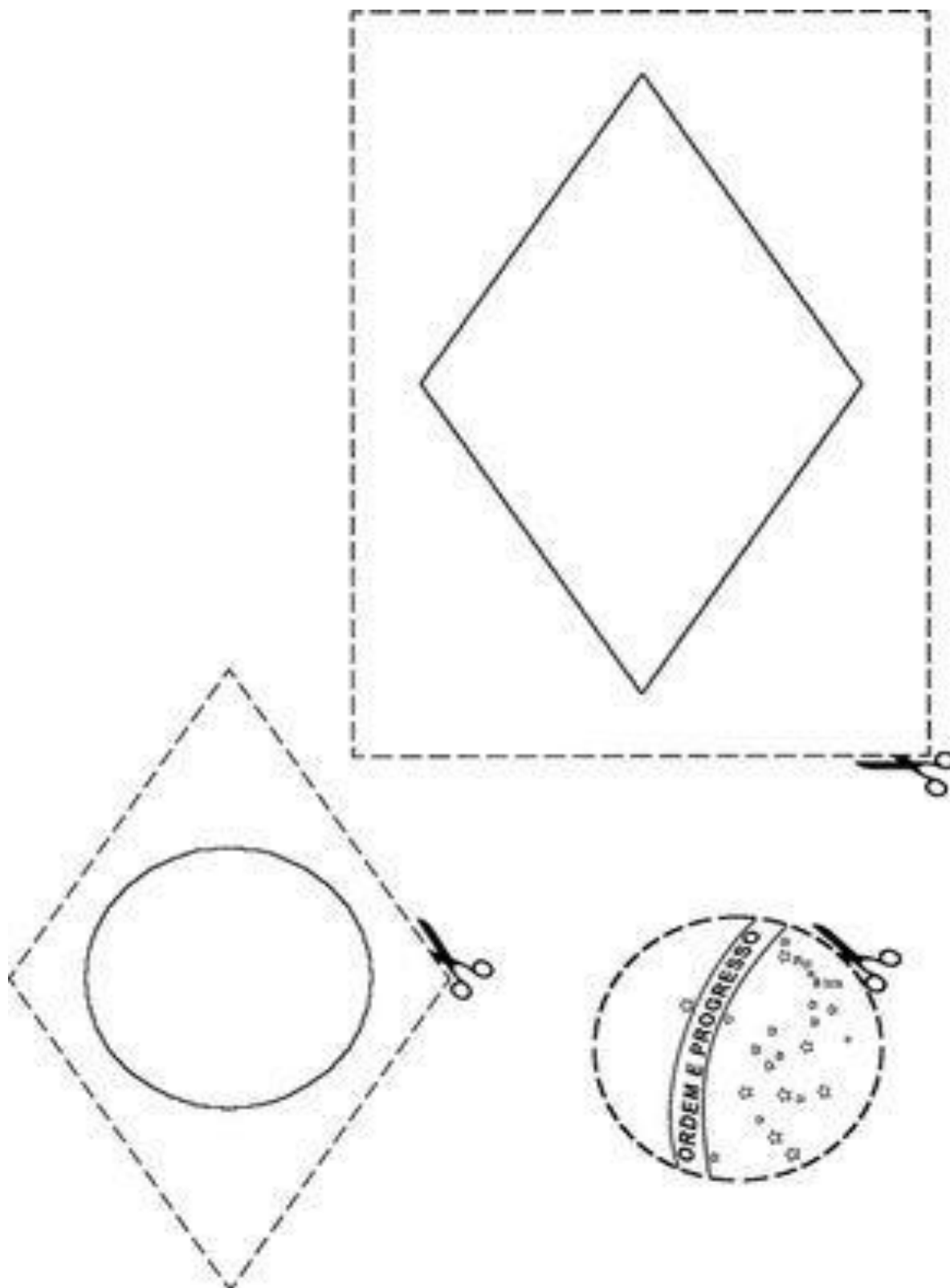
CÍRCULO



LOSÂNGULO



3. COORDENAÇÃO MOTORA: RECORTE E MONTE A SUA BANDEIRA DO BRASIL. FAÇA UM BELO COLORIDO NA MESMA, RESPEITANDO AS SUAS CORES:






4. AS ESTRELAS QUE APARECEM NA BANDEIRA DO BRASIL REPRESENTAM O NUMERO DE ESTADOS QUE COMPÕEM O NOSSO PAÍS.



A ESTRELA QUE SE ENCONTRA SOZINHA NA PARTE SUPERIOR A FRASE (ORDEM E PROGRESSO) REPRESENTA O ESTADO DO PARÁ.

5. LIGUE A QUANTIDADE DE ESTRELAS AO NUMERAL QUE A REPRESENTA:



7

9

3

6