



**PREFEITURA MUNICIPAL DE PONTE NOVA
SECRETARIA DE EDUCAÇÃO
ESTADO DE MINAS GERAIS**

**Atividade de Matemática – 4º ano
RAP DA XUXA**



**O momento é agora
Tem que acreditar
Tenha fé na vida
Que vai melhorar**

**Mostre sua força
Sinta o coração...
Pense positivo
Não desista não.**



**Se você tentou
E ainda não foi
Tente outra vez
Não deixe pra depois.**



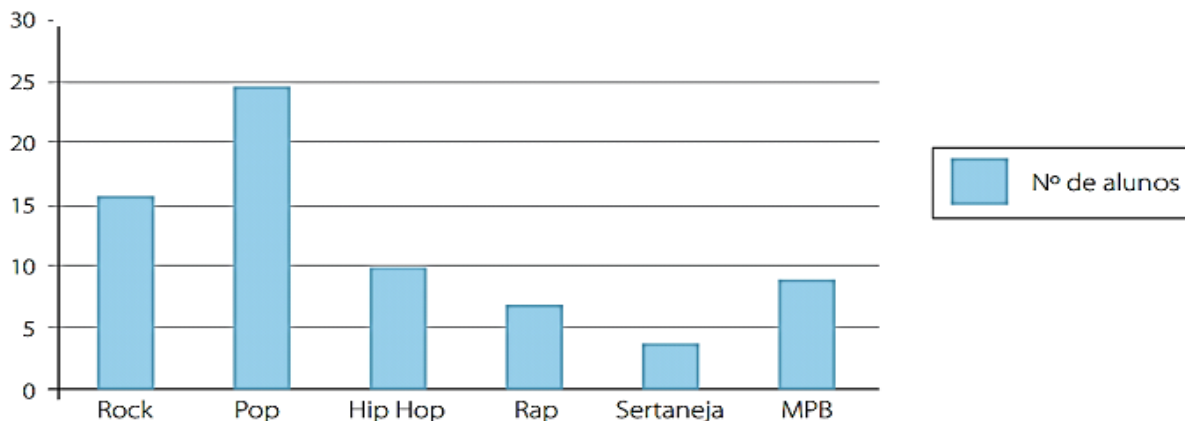
**Acredite sempre
A cabeça erguida
Olha pra frente
Sempre tem saída
A gente sonha o tempo todo
Sonha pra um dia realizar
Cria fantasia, faz de novo
Luta pra crescer e melhorar.**



k4815512 www.fotosearch.com

**U, u, u, u, e a gente vira o jogo
U, u, u, u, e não da mole não
U, u, u, u, a gente faz o novo
U, u, u, u, com fé no coração.**

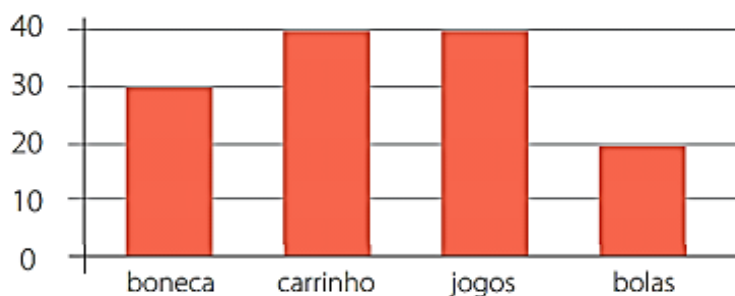
1) A professora Laura de Matemática realizou um levantamento para saber a preferência musical dos alunos do 5º ano A e B. O gráfico seguinte mostra o resultado obtido por ela:



Com base no gráfico anterior é possível dizer que:

- a) O estilo musical preferido pela maioria dos alunos é Hip Hop.
- b) A maioria dos alunos prefere Sertaneja.
- c) O estilo musical preferido pela maioria dos alunos é Pop.
- d) O estilo musical menos ouvido é MPB.

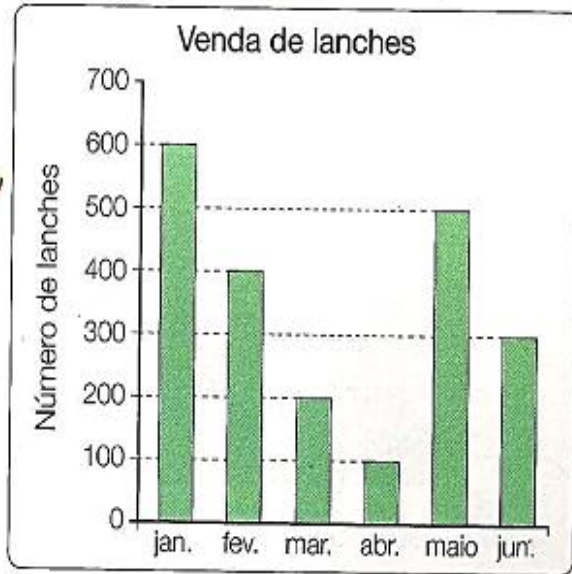
2) Sr. Luís é dono de uma loja de brinquedos. No final de setembro, ele resolveu fazer um gráfico apresentando a quantidade de brinquedos que vendeu durante o mês. Veja o gráfico a seguir:



3) Quais são os dois brinquedos mais comprados ?

- a) Boneca e bolas
- b) carrinho e boneca
- c) carrinho e jogos.

b) Quantos brinquedos foram comprados ao todo?



a) Quantos lanches foram vendidos nos dias seguintes meses?

Janeiro _____

Abril _____

Fevereiro _____

Maior _____

Março _____

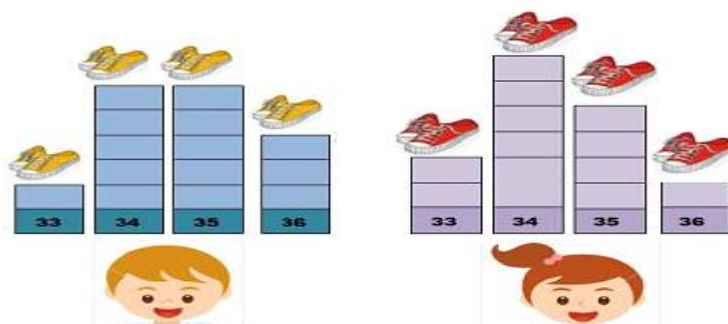
Junho _____

b) Em qual mês foi vendido mais lanche?

c) Em qual mês foi vendido menos lanche?

4) Professora Márcia fez uma pesquisa para saber quais números de sapato calçam os seus alunos. Com o resultado montou junto com a turma um gráfico.

Observe:



Nessa turma, qual o número de calçado mais comum?

- a) 33 b) 34 c) 35 d) 36

5) Resolva as operações. Depois encontre os resultados no diagrama e pinte-os.

Caça- números

ADIÇÃO



SUBTRAÇÃO



MULTIPLICAÇÃO



DIVISÃO



- | | | |
|-----------------------------|----------------------------|------------------------|
| a) $678 + 25 + 706 =$ _____ | j) $369 - 95 =$ _____ | s) $369 : 3 =$ _____ |
| b) $45 + 12 + 37 =$ _____ | k) $987 \times 5 =$ _____ | t) $864 : 4 =$ _____ |
| c) $278 + 36 =$ _____ | l) $234 \times 32 =$ _____ | u) $875 : 5 =$ _____ |
| d) $509 + 27 + 8 =$ _____ | m) $59 \times 45 =$ _____ | v) $795 : 15 =$ _____ |
| e) $36 + 45 + 8 =$ _____ | n) $26 \times 4 =$ _____ | w) $1442 : 14 =$ _____ |
| f) $800 - 263 =$ _____ | o) $79 \times 6 =$ _____ | x) $2397 : 17 =$ _____ |
| g) $895 - 243 =$ _____ | p) $352 \times 7 =$ _____ | y) $891 : 9 =$ _____ |
| h) $907 - 320 =$ _____ | q) $85 \times 36 =$ _____ | z) $4624 : 8 =$ _____ |
| i) $85 - 27 =$ _____ | r) $236 \times 7 =$ _____ | |



1409	1048	4935							
539	94	90	7488						
537	214	314	2564	2655					
536	652	545	544	203	104				
123	678	587	79	89	70	474			
467	216	785	58	69	219	478	2464		
	179	175	28	274	800	21	23	3060	
		350	53	284	300	36	1652	6030	
			200	103	500	606	140	6039	
				140	141	289	201	704	
					100	99	233	222	
						111	578	221	
							122	355	



Jogando, brincando e aprendendo matemática



PREFEITURA MUNICIPAL DE PONTE NOVA
SECRETARIA DE EDUCAÇÃO
ESTADO DE MINAS GERAIS

Atividade de Língua Portuguesa– 4ºano

Depende de nós



Depende de nós
Quem já foi ou ainda é criança
Que acredita ou tem esperança
Quem faz tudo pra um mundo melhor...
Depende de nós
Que o circo esteja armado
Que o palhaço esteja engraçado
Que o riso esteja no ar
Sem que a gente precise sonhar...
Que os ventos cantem nos galhos
Que as folhas bebam orvalhos
Que o sol descortine mais as manhãs...
Depende de nós
Se esse mundo ainda tem jeito
Apesar do que o homem tem feito
Se a vida sobreviverá...

Ivan Lins / Vitor Martins/www.lettras.com.br



Interpretação do texto



1. O gênero do texto que você leu é _____.

2. A música é composta por _____ estrofes e cada estrofe possui _____ versos.

3. Retire as palavras que rimam na:

Primeira estrofe _____ / _____

Segunda estrofe _____ / _____

Terceira estrofe _____ / _____

Quarta estrofe _____ / _____



4. Qual é a ideia principal do texto?

5. Quem é responsável por um mundo melhor?

6. As afirmativas que estão de acordo com a 2ª estrofe da música são as de que o autor

() quer montar um circo e precisa da ajuda de todos nós.

() deseja que todos nós sejamos responsáveis pelo que queremos possuir e alcançar.

() pretende que a vida seja tão bonita quanto os sonhos.

7. O sentimento mais trabalhado nessa música é

(A) saudade.

(B) esperança.

(C) tristeza.

(D) alegria.

Vamos brincar !

VOCÊ É O REPÓRTER

- Fazer uma entrevista com o papai, mamãe, tio, tia ou avós.



1 - De que você brincava quando era criança?

1 -

2 -

2 - Qual era o seu brinquedo preferido?

3 - Onde você brincava?

4 - Quais são as brincadeiras das crianças de hoje?

Nome do entrevistado: _____