



PREFEITURA MUNICIPAL DE PONTE NOVA
SECRETARIA DE EDUCAÇÃO
ESTADO DE MINAS GERAIS

1º PERÍODO

NOME: _____



O DIA DO TRÂNSITO É COMEMORADO NO DIA 25 DE SETEMBRO, E FAZ PARTE DA SEMANA NACIONAL DO TRÂNSITO. NAS ESCOLAS, A DATA É UM MOMENTO PARA ENSINAR DESDE CEDO AS REGRAS BÁSICAS DE TRÂNSITO E DE SEGURANÇA PARA PEDESTRES. AS PLACAS DE REGULAMENTAÇÃO INFORMAM O QUE É PROIBIDO E O QUE É OBRIGATÓRIO NO USO DA VIA. SE NÃO FOREM RESPEITADAS, OS MOTORISTAS PODEM SER MULTADOS. JÁ AS PLACAS DE ADVERTÊNCIA AVISAM AOS MOTORISTAS E AOS PEDESTRES SOBRE A EXISTÊNCIA DE ALGUM PERIGO NA VIA, ALERTANDO-OS TAMBÉM QUANTO À GRAVIDADE DESSE PERIGO.

NO **VERDE** O MOTORISTA PODE PASSAR LIVREMENTE. NO **AMARELO** DEVE TER MAIS ATENÇÃO, POIS É UM AVISO QUE O SINAL FICARÁ VERMELHO. O SINAL **VERMELHO** SIGNIFICA QUE O MOTORISTA NÃO PODE PASSAR, TENDO QUE ESPERAR FICAR VERDE DE NOVO.



. ACESSE AO LINK ABAIXO PARA ASSISTIR A CANÇÃO “O TRÂNSITO DE ELIAS BECKY”:

<https://www.youtube.com/watch?v=EdffX059pTQ>

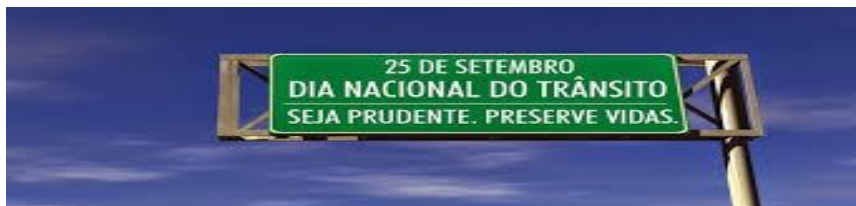


1- ASSISTA A CANÇÃO: O TRÂNSITO COM SEUS FAMILIARES E COMENTE COM ELES O QUE ACHOU DO VÍDEO.

2- ESSA MÚSICA SOBRE O TRÂNSITO É EDUCATIVA, TEM A FUNÇÃO DE ENSINAR NOSSAS CRIANÇAS SOBRE CADA COR DO SEMÁFARO E SOBRE SUAS FUNÇÕES. AGORA FAÇA UM DESENHO DO SEMÁFARO EM SEU CADERNO DE ACORDO COM SUAS CORES EXPECTIVAMENTE.

3-NA MÚSICA QUE VOCÊ ACABOU DE OUVIR FALAR EXPLICA SOBRE A LATERALIDADE- **LADO DIREITO E ESQUERDO**. FAÇA UM DESENHO DE VOCÊ IDENTIFICANDO O SEU LADO DIREITO E O LADO ESQUERDO. VOCÊ PODE USAR LÁPIS DE COR, CANETINHA, GIZ DE CERA...





Atividade

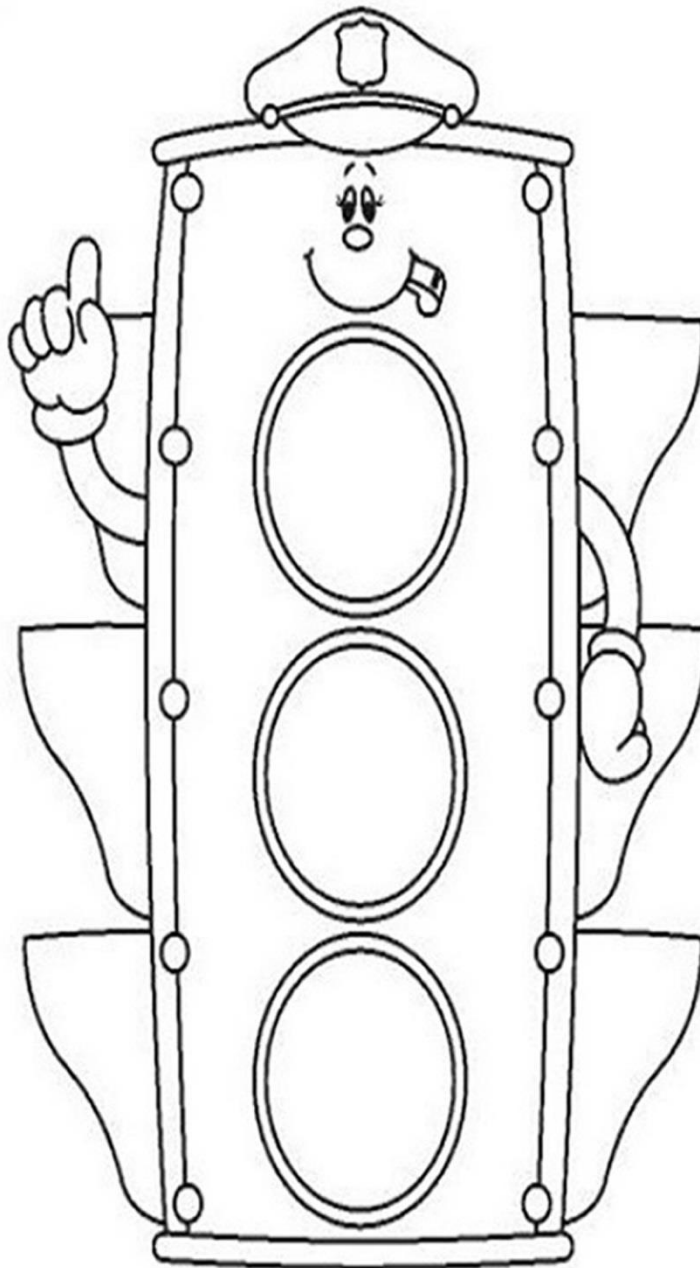
COMPLETE O DIAGRAMA
COM A ORDEM
DA AGENTE DE TRÂNSITO.



P	A	R	E
	A		E
P		R	
	A	R	
P	A		E
P		R	E




PINTE O SEMÁFORO NAS CORES VERMELHO, AMARELO E VERDE:



25 DE SETEMBRO – DIA NACIONAL DO TRÂNSITO



O SINAL ESTÁ INDICANDO QUE O NOSSO AMIGUINHO AINDA NÃO PODE ATRAVESSAR A RUA. QUAL É A COR QUE DEVEMOS PINTÁ-LO?





PREFEITURA MUNICIPAL DE PONTE NOVA
SECRETARIA DE EDUCAÇÃO
ESTADO DE MINAS GERAIS


1º PERÍODO

NOME: _____



PROBLEMINHA!

1- OBSERVE A IMAGEM DO QUADRO E RESPONDA COM ATENÇÃO.



QUANTAS NÚVENS?

QUANTOS CÍRCULOS?

QUANTAS CASAS?

QUANTOS QUADRADOS?

QUANTAS ÁRVORES?

QUANTOS TRIÂNGULOS?

QUANTOS CARROS?

QUANTAS FLORES?



ESCREVA O QUE VEM ANTES E O QUE VEM DEPOIS.

5

9

3

4

7

2

