

PREFEITURA MUNICIPAL DE PONTE NOVA
SECRETARIA MUNICIPAL DE EDUCAÇÃO
ESTADO DE MINAS GERAIS

Matemática- 5º ano – Ensino Fundamental

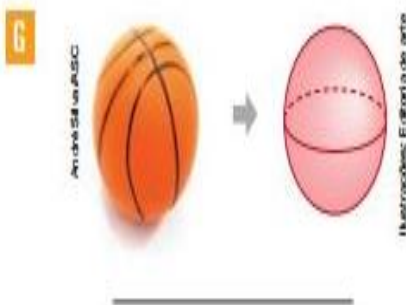
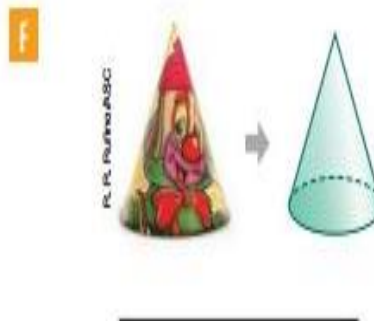
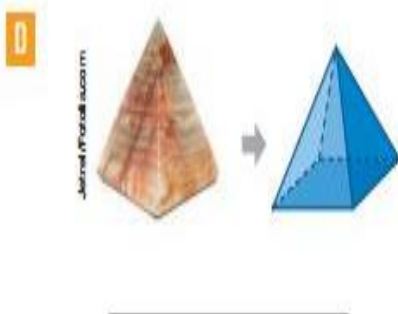
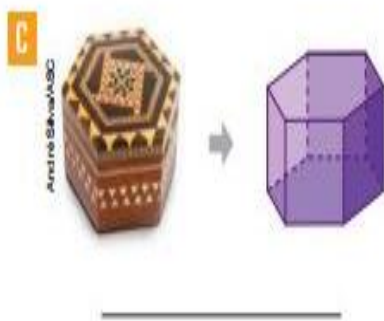
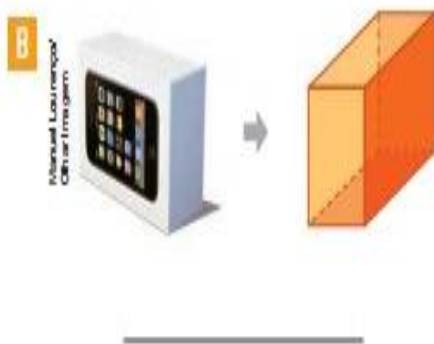
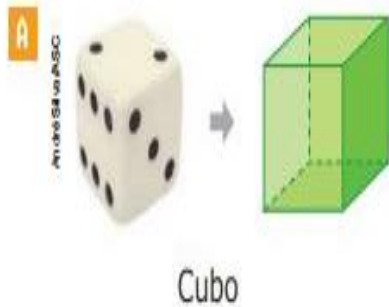
Façam as atividades no caderno de matemática

INCLUSÃO



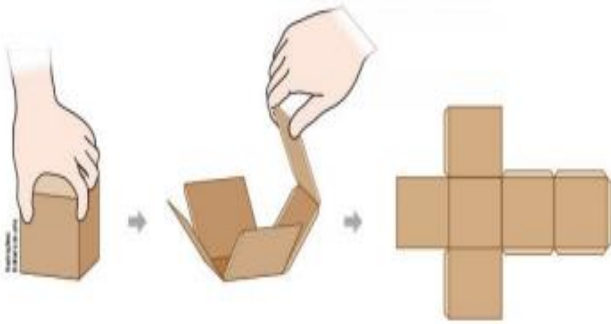
SÓLIDOS GEOMÉTRICOS

Questão 1. Os objetos representados a seguir lembram sólidos geométricos. Escreva o nome do sólido geométrico relacionado a cada objeto. Note que um nome já foi escrito.



Agora, escreva o nome de outros objetos que lembram os sólidos geométricos apresentados.

Questão 2. Pedro desmontou uma caixa e, dessa forma, obteve seu molde.



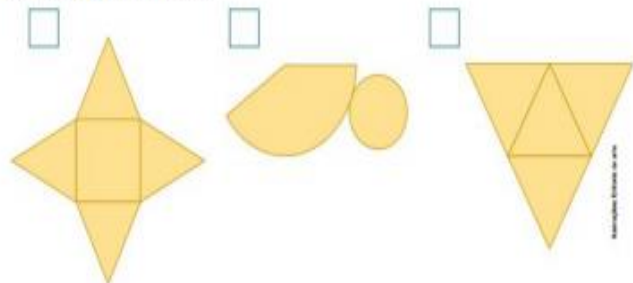
a) A caixa lembra qual forma geométrica espacial?

b) Quais são as formas geométricas planas representadas no molde dessa caixa?

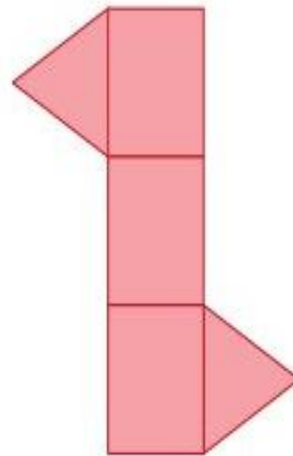
Questão 3. Identifique e escreva o nome dos sólidos geométricos a seguir.



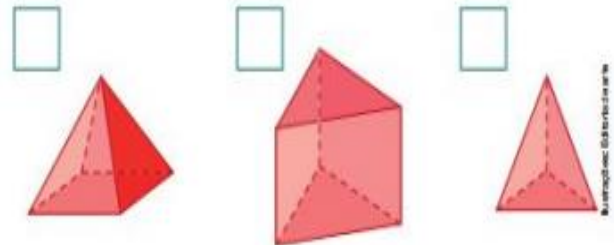
Agora, relacione cada sólido geométrico ao seu molde, escrevendo, no quadro, a letra correspondente.



Questão 4. A figura ao lado representa o molde de um sólido geométrico.



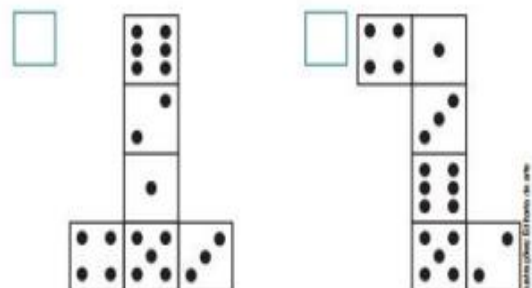
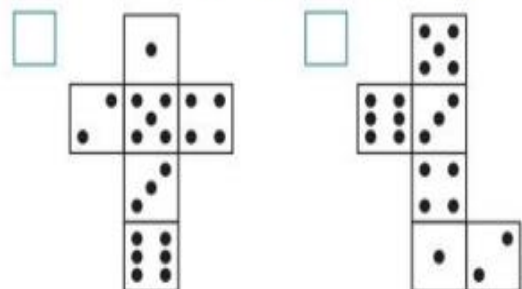
Entre os sólidos geométricos abaixo, marque um X naquele que corresponde ao molde.



Questão 5. Veja a representação de um dado.



Com qual dos moldes a seguir é possível construir o dado apresentado? Marque um X.





A Inclusão acontece quando ...



"Se aprende com as diferenças e não com as igualdades"

Paulo Freire