



**PREFEITURA MUNICIPAL DE PONTE NOVA**  
**SECRETARIA DE EDUCAÇÃO**  
**ESTADO DE MINAS GERAIS**

**ATIVIDADE DE MATEMÁTICA – 5º ANO ENSINO FUNDAMENTAL**

**TEMA DE HOJE: MEIO AMBIENTE**



**As atividades devem ser realizadas no seu caderno de Matemática**

1\_ Substitua os símbolos por letras e descubra os nomes dos variados ecos - sistemas existentes no Brasil:

O	S	A	M	I	T	E	L	R	D	C	P	N	U
☆	○	□	△	●	◎	⊖	⊗	⊠	♣	⋈	+	♥	♦

Z	G	F	V
☀	☆	♦	★

♦ ⊗ ☆ ⊠ ⊖ ○ ◎ □    □ △ □ ☀ ☆ ^ ♥ ● ⋈ □ ,    △ □ ◎ □

\_\_\_\_\_

□ ◎ ⊗ □ ^ ♥ ◎ ● ⋈ □ ,    ⋈ ⊖ ⊠ ⊠ □ ♣ ☆ ,

\_\_\_\_\_

△ □ ♥ ☆ ♦ ⊖ ☀ □ ⊗ ,    ⋈ □ △ + ☆ ○ ,    ⋈ □ □ ◎ ● ♥ ☆ □ ,

+ □ ♥ ◎ □ ♥ □ ⊗ .

\_\_\_\_\_

2\_ Vamos ajudar Laura a regar todas as flores do jardim em ordem



crescente. Logo após em ordem decrescente:

51

28

35

9

83

47





24

18

\_\_\_\_\_

\_\_\_\_\_

3\_ Lorena confeccionou um jogo de boliche com garrafas pet para brincar com seus 3 amigos Ana, Beatriz e Carlos. Desta forma reciclou materiais prejudiciais ao Meio Ambiente.






GARRAFAS	PONTUAÇÃO
	1 000
	1 00
	10
	1

A) Carlos derrubou 3 garrafas de 1000, 5 de 100, 4 de 10 e 3 de 1.

B) Ana derrubou 5 garrafas de 1000, 3 de 100, 4 de 10 e 2 de 1.

C) Beatriz derrubou 4 garrafas de 1000, 4 de 100, 4 de 10 e 4 de 1.

4\_ A primeira linha da tabela já está pronta. Complete as demais linhas:

Desenho	Repres.fracionária	Por extenso
	$\frac{1}{6}$	Um sexto
		
		Dois sextos
	$\frac{2}{3}$	
	$\frac{3}{4}$	
		Um quarto



Queira o bem,  
plante o bem  
e o resto vem.