



PREFEITURA MUNICIPAL DE PONTE NOVA
SECRETARIA DE EDUCAÇÃO
ESTADO DE MINAS GERAIS

1-PINÓQUIO GANHOU DE SEU AMIGO GRILO, MAIS FIGURINHAS PARA A SUA COLEÇÃO. SE ELE GANHOU MAIS 6 FIGURINHAS, COM QUANTAS FIGURINHAS PINÓQUIO FICOU?

- (A) 14
- (B) 15
- (C) 16




2-OLHANDO O RÁDIO DO GEPETO, VEMOS A FORMA DE UM:

- (A) TRIÂNGULO
- (B) CIRCULO
- (C) RETÂNGULO



3-VEJA O PINÓQUIO E O GRILO FALANTE:



QUANTAS PIPAS FALTAM PARA PINÓQUIO FICAR COM A MESMA QUANTIDADE DE BOLAS QUE O GRILO TEM?

- (A) 2
- (B) 3
- (C) 4

4-QUANTOS QUADRADOS VEMOS NO DESENHO ABAIXO?

- (A) 3
- (B) 4
- (C) 6



BRINCADEIRAS ANTIGAS

ESCREVA UMA FRASE SOBRE QUAL VOCE JÁ BRINCOU.



PÉ DE LATA II




PERNA DE PAU E PÉ DE LATA




PIQUE ESCONDE



JLANDO CARNIÇA III



PULANDO CORDA III



PUXANDO LATA III



ROLANDO ARO



BAMBOLÉ II



RODANDO IÔ-IÔ II



RODANDO PIÃO III



SOLTANDO PIPA IV



TELEFONE DE LATA II