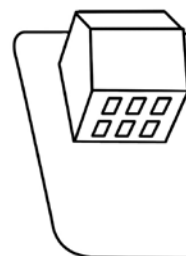
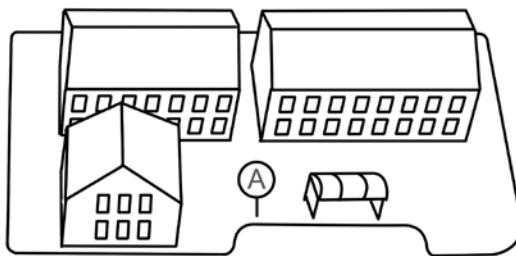
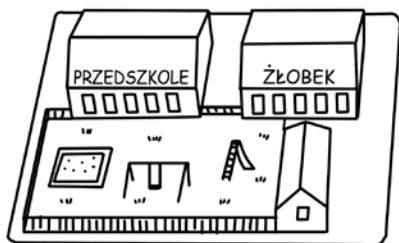

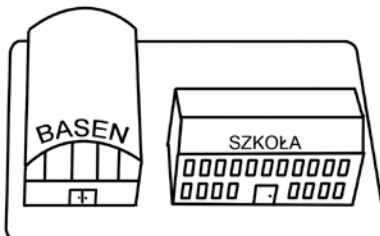

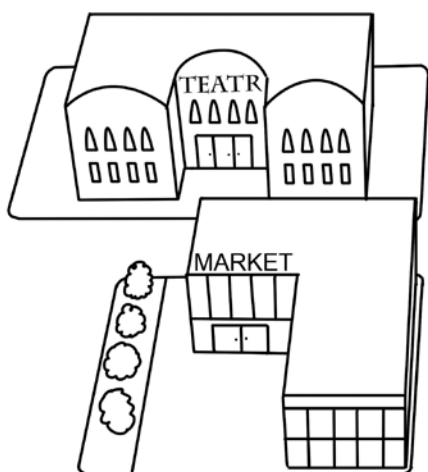
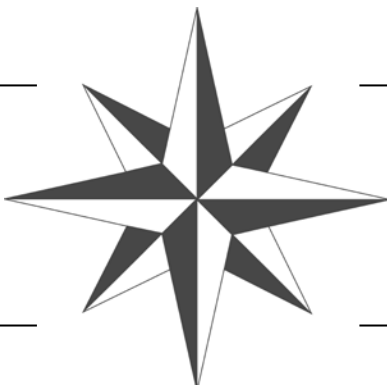


Róża wiatrów

Podpisz główne i pośrednie kierunki geograficzne na róży wiatrów.

Następnie zaznacz zdania, które prawidłowo opisują obrazek.



- Żłobek znajduje się na południowy zachód od basenu.
- Basen leży na wschód od szkoły.
- Aby z przystanku autobusowego dotrzeć do parku, należy się kierować na północ.
- Na zachód od szkoły znajduje się muzeum.
- We wschodniej części parku rosną trzy drzewa.
- Park znajduje się na północny wschód od marketu.