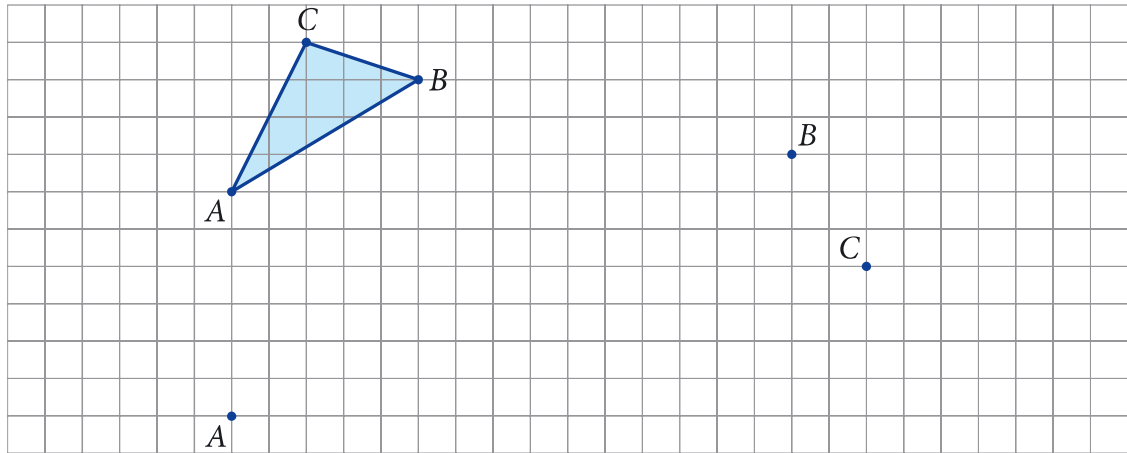
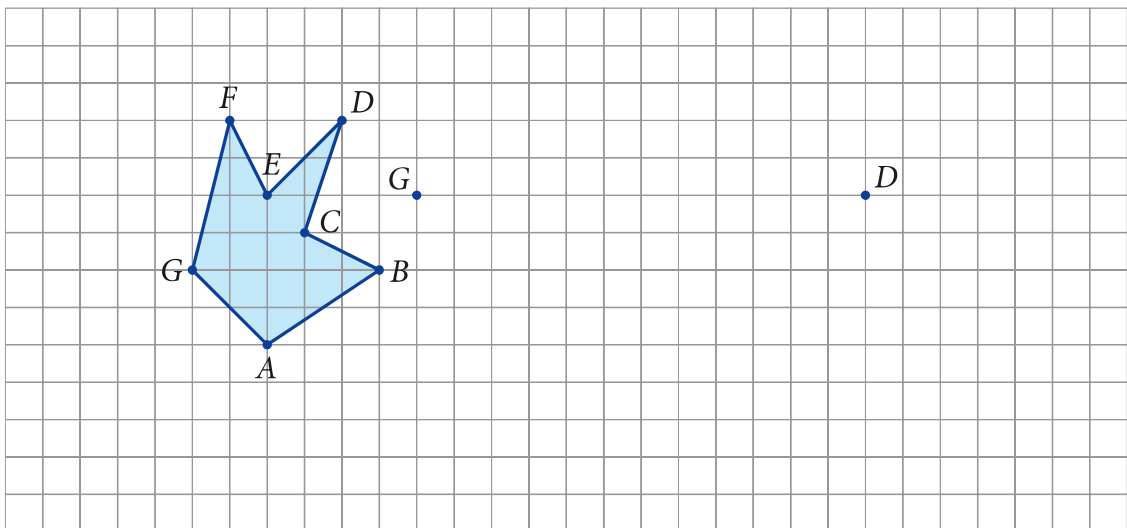


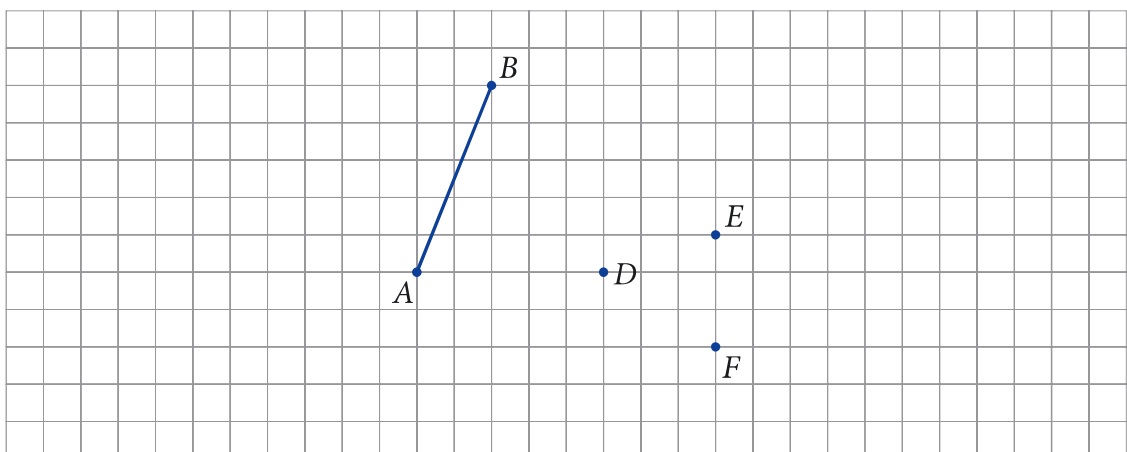
- 1 Przerysuj trzykrotnie trójkąt  $ABC$ . Każdy rysunek zacznij od wskazanego wierzchołka.



- 2 Przerysuj dwukrotnie siedmiokąt  $ABCDEFGG$ . Każdy rysunek zacznij od wskazanego wierzchołka.

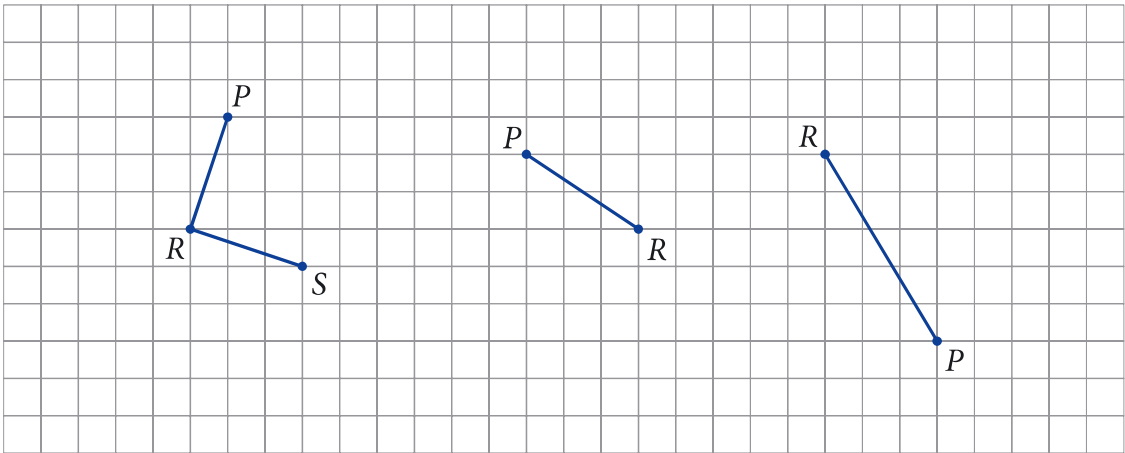


- 3 Narysuj odcinki  $DR$ ,  $ES$ ,  $FT$  równe odcinkowi  $AB$  oraz równoległe do niego.  
*Uwaga.* Odcinki te można narysować na dwa sposoby. Wybierz tylko jeden z nich.



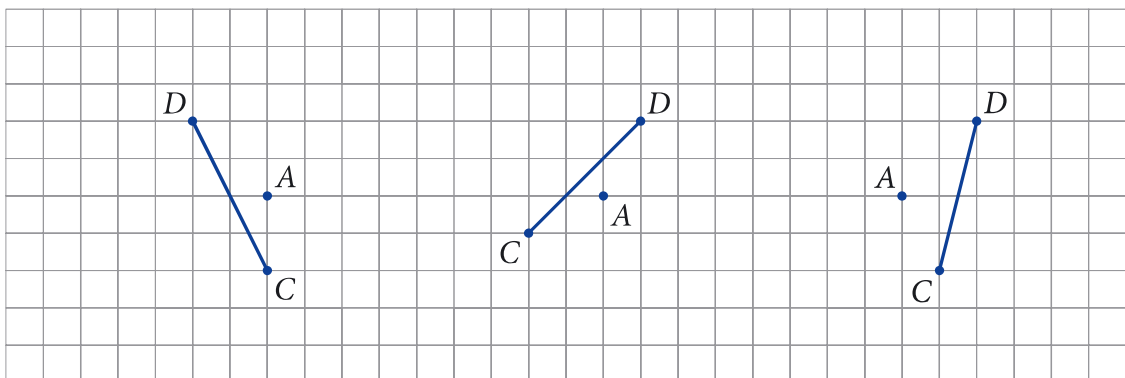
- 4 Narysuj odcinek  $RS$  prostopadły do odcinka  $PR$  i równy temu odcinkowi.

*Uwaga.* Odcinek  $RS$  można narysować na dwa sposoby. Wybierz tylko jeden z nich.



- 5 Narysuj odcinek  $AB$  prostopadły do odcinka  $CD$  i równy temu odcinkowi.

*Uwaga.* Odcinek  $AB$  można narysować na dwa sposoby. Wybierz tylko jeden z nich.



- 6 Narysuj kwadrat  $ABCD$ .

*Uwaga.* Kwadrat  $ABCD$  można narysować na dwa sposoby. Wybierz tylko jeden z nich.

