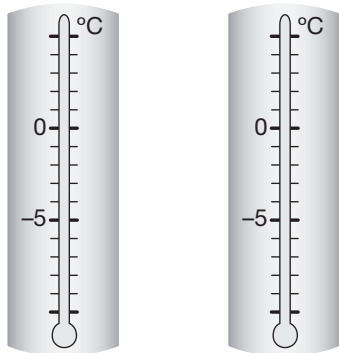


VI.6 O ile różnią się liczby

1 Na każdym termometrze zaznacz temperaturę zgodnie z podpisem. Uzupełnij zdanie.

a)



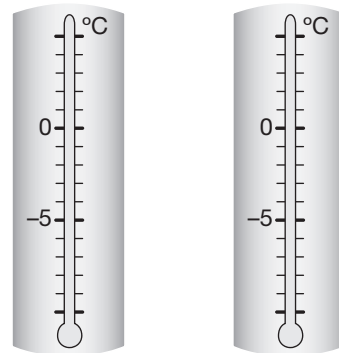
-4°C

-3°C

Pierwszy termometr wskazuje temperaturę

o $\text{ }^{\circ}\text{C}$ niższą.

c)



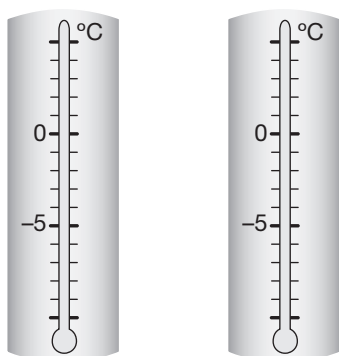
2°C

-1°C

Pierwszy termometr wskazuje temperaturę

o $\text{ }^{\circ}\text{C}$ _____.

b)



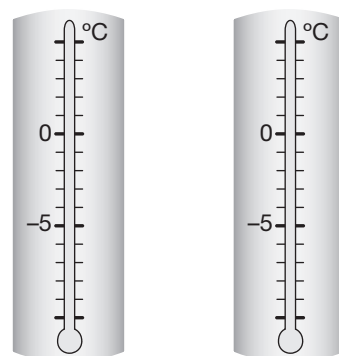
-1°C

-3°C

Pierwszy termometr wskazuje temperaturę

o $\text{ }^{\circ}\text{C}$ _____.

d)



-3°C

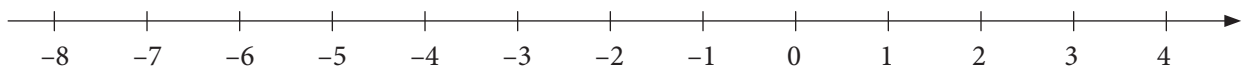
4°C

Pierwszy termometr wskazuje temperaturę

o $\text{ }^{\circ}\text{C}$ _____.

4 Zaznacz na osi podane liczby. Uzupełnij zdania.

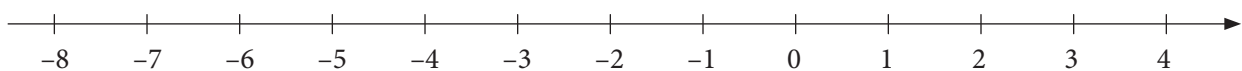
a) -5 i -2



Liczba -5 jest o ___ od liczby -2 .

Liczba -2 jest o ___ od liczby -5 .

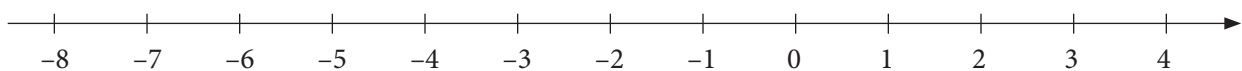
b) -4 i 1



Liczba -4 jest o ___ od liczby 1 .

Liczba 1 jest o ___ od liczby -4 .

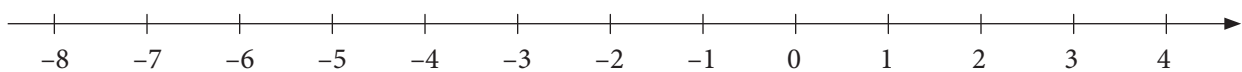
c) -2 i 2



Liczba -2 jest o ___ od liczby ___.

Liczba ___ jest o ___ od liczby ___.

d) 0 i -4

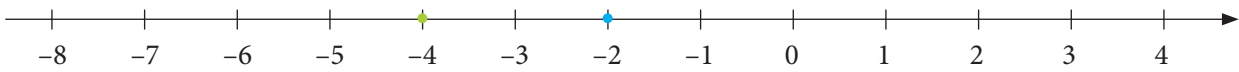


Liczba ___ jest o ___ od liczby ___.

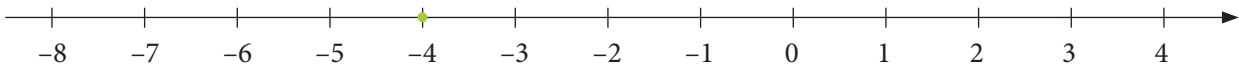
Liczba ___ jest o ___ od liczby ___.

5 Opisaną liczbę zaznacz na osi niebieską kropką. Uzupełnij zdanie.

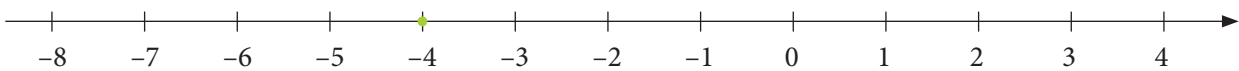
a) Liczba o 2 większa od -4 to ___.



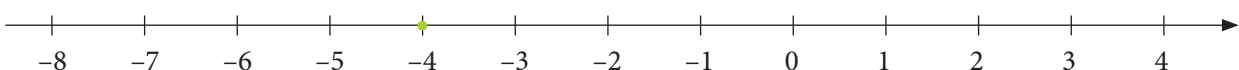
b) Liczba o 6 większa od -4 to ___.



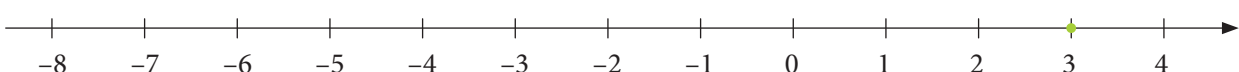
c) Liczba o 2 mniejsza od -4 to ___.



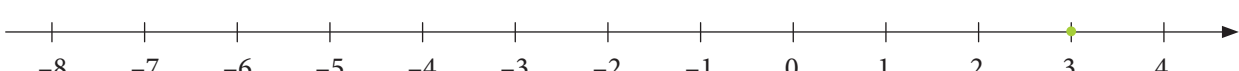
d) Liczba o 4 większa od -4 to ___.



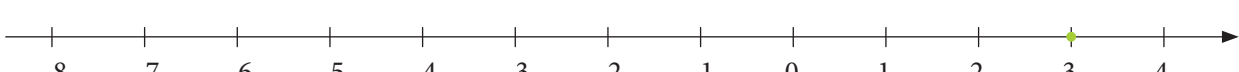
e) Liczba o 2 mniejsza od 3 to ___.



f) Liczba o 3 mniejsza od 3 to ___.



g) Liczba o 5 mniejsza od 3 to ___.



h) Liczba o 7 mniejsza od 3 to ___.

