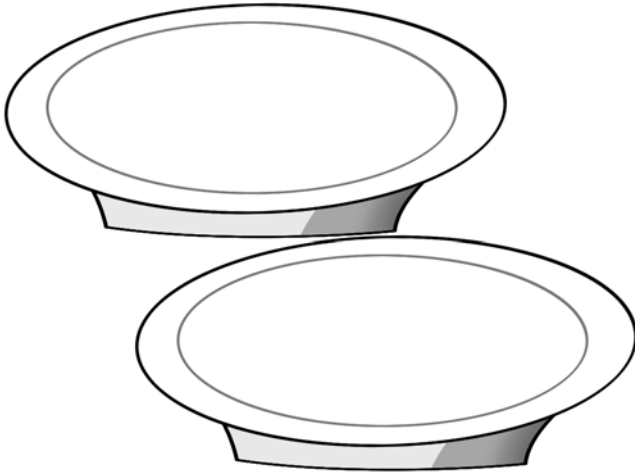


1 Dibuja y resuelve de dos maneras distintas.

- Hay 6 galletas en cada plato. ¿Cuántas galletas hay en total?

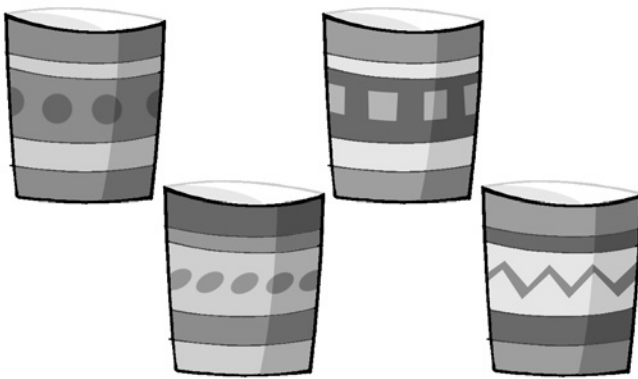


$$\square + \square = \square$$

$$\square \times \square = \square$$

► Hay galletas en total.

- Hay 3 pinturas en cada bote. ¿Cuántas pinturas hay en total?

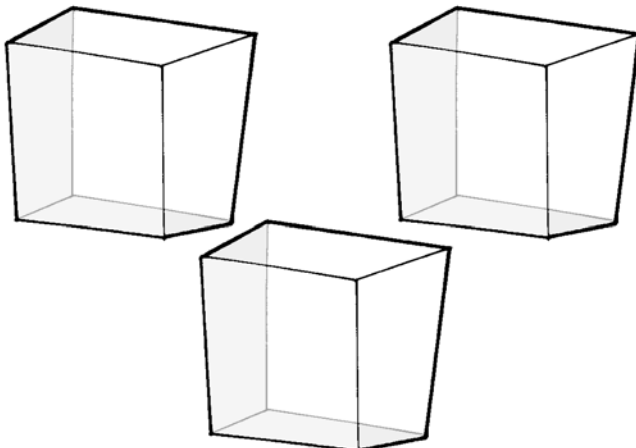


$$\square + \square + \square + \square = \square$$

$$\square \times \square = \square$$

► Hay pinturas en total.

- Hay 5 canicas en cada caja. ¿Cuántas canicas hay en total?



$$\square + \square + \square = \square$$

$$\square \times \square = \square$$

► Hay canicas en total.