

**1** Realiza estas sumas.

$2 + 8 + 5 = \square$

$5 + 6 + 4 = \square$

$$\begin{array}{r} 1 \\ 9 \\ + 4 \\ \hline \square \end{array}$$

$$\begin{array}{r} 2 \\ 7 \\ + 3 \\ \hline \square \end{array}$$

$$\begin{array}{r} 8 \\ 2 \\ + 5 \\ \hline \square \end{array}$$

$$\begin{array}{r} 4 \\ 9 \\ + 6 \\ \hline \square \end{array}$$

**2** Coloca y resuelve.

$83 + 14$


$33 + 48$


$57 + 37$


$24 + 49$


**3** ¿Cuántos cromos les quedan?

Tenía 87 cromos,  
pero he perdido 16.





► Le quedan  cromos.

Tenía 65 cromos,  
pero he regalado 21.




► Le quedan  cromos.

4 ¿Qué tipo de líneas utilizarías para dibujar estos objetos?  
Una según corresponda.

una pelota 

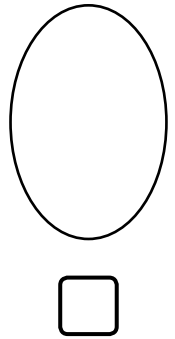
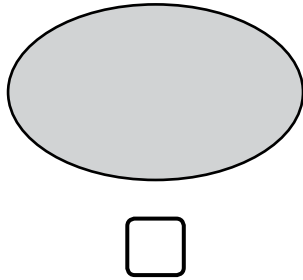
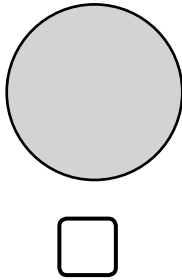
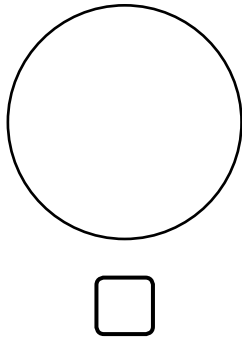
una pajita 

una margarita 


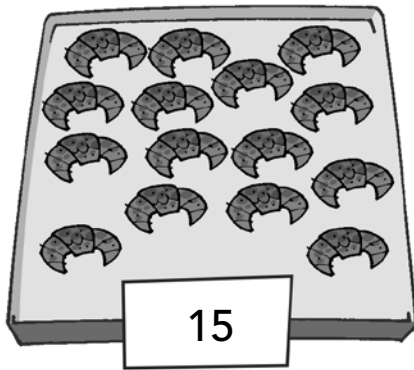

líneas rectas

líneas curvas

5 ¿Qué figura es un círculo? Señala.



6 ¿Cuántas magdalenas hay en total?



Hay  magdalenas de un sabor.

Hay  magdalenas de otro sabor.

► En total hay  magdalenas.
