

1 Escribe estos números con letra.

8 D y 4 U →

70 + 3 →

27 →

6 D →

2 Compara y escribe $>$ o $<$.

52 ○ 62

17 ○ 27

84 ○ 44

93 ○ 91

45 ○ 39

77 ○ 79

3 Completa con los números que faltan.

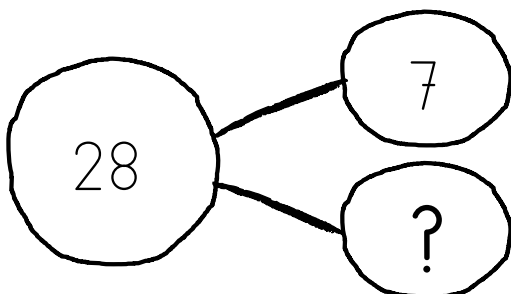
$$14 + 23 = \square + 14$$

$$32 + \square = 11 + 32$$

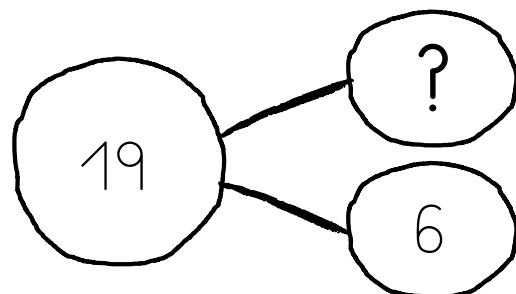
$$71 + 16 = 16 + \square$$

$$\square + 62 = 62 + 20$$

4 ¿Qué números faltan?




$$\square - \square = \square$$



$$\square - \square = \square$$

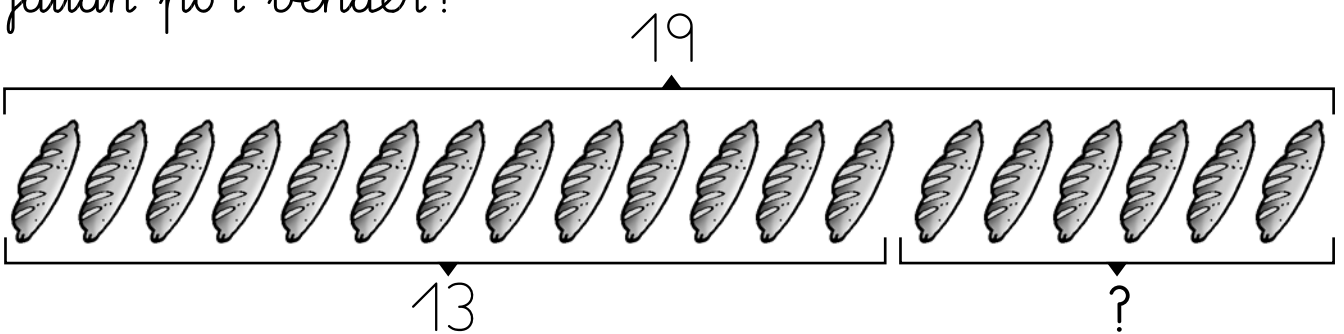
5 Rodea lo que pesa más que un kilogramo.



6 ¿Cuántas jarras de agua necesito para llenar estos vasos? Señala.



7 Hay 19 barras de pan y se venden 13. ¿Cuántas faltan por vender?



Hay barras de pan.

Se venden barras de pan.

$$\square - \square = \square$$

► Faltan barras por vender.