

ACTIVIDAD INICIAL

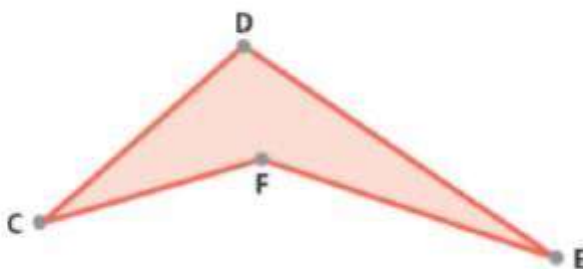
Pre saberes: Responde para ti que el un polígono

ACTIVIDAD DE DESARROLLO DE CONTENIDOS

Resumen

Un polígono es la unión de segmentos, que cumplen las siguientes propiedades:

1. Cada segmento toca exactamente a los otros dos. Por ejemplo, el segmento CD toca al segmento CF en el vértice C.
2. En cada vértice se encuentran máximo dos segmentos. Por ejemplo, en el vértice D se encuentran los segmentos CD y DE.



Actividad 2 - Tarea

Observe cada una de las siguientes formas. Luego subraye si es polígono o no polígono. ¿Puede explicar por qué?

1.



polígono      no polígono

---

---

2.



polígono      no polígono

---

---

3.



polígono      no polígono

---

---

4.



polígono      no polígono

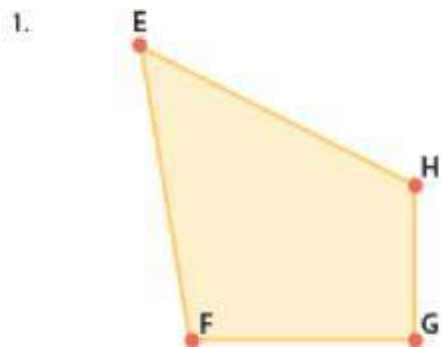
---

---

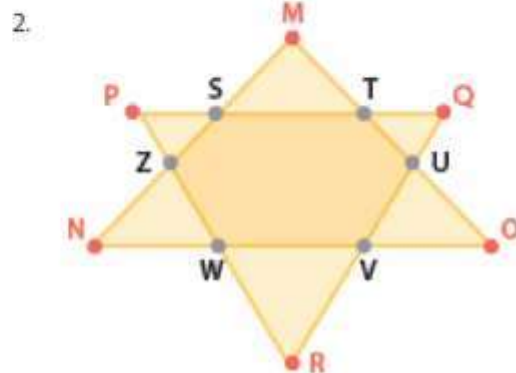
Tema: Polígonos

Actividad 1

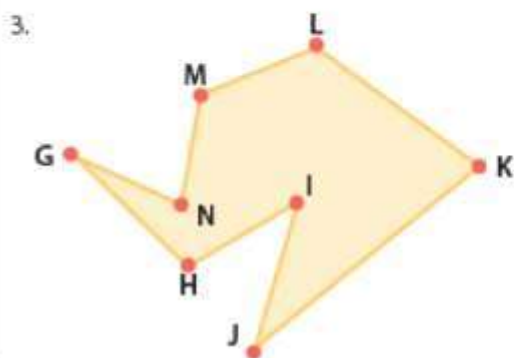
Observe cada una de las siguientes formas. Luego, marque con un  en el espacio correspondiente si es un polígono o no.



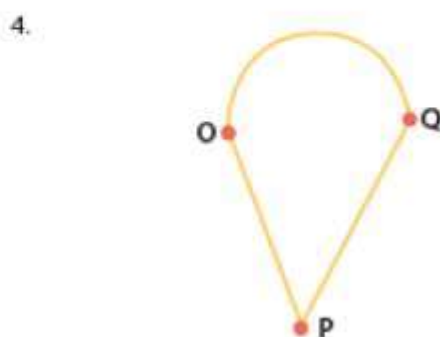
Sí es un polígono       No es un polígono



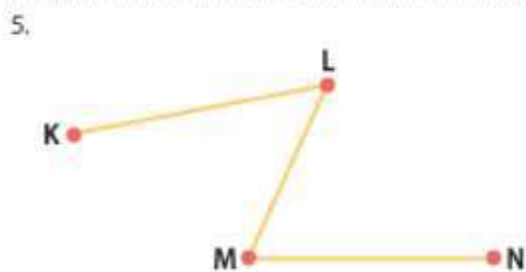
Sí es un polígono       No es un polígono



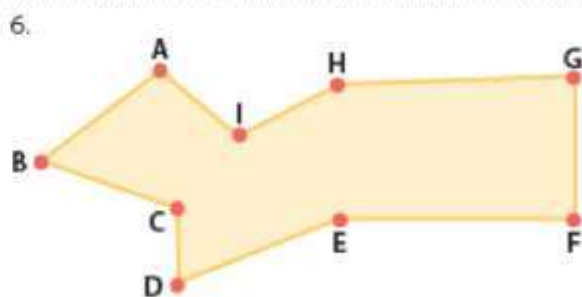
Sí es un polígono       No es un polígono



Sí es un polígono       No es un polígono



Sí es un polígono       No es un polígono



Sí es un polígono       No es un polígono